



מתרגלים חיבור וחיסור במאנך בתחום ה-100



בעזרת עבני לא להחישת המבנה העשרוני




חיבור ללא המרה




מתרגלים חיבור במ

חיבור ללא המרה

שמי: _____



מתרגלים חיבור במאנך



מתחיל מקבצי היחידות
נחבר יחידות ליחידות
עשרות לעשרות

לכל קבוצה יש את המקום
המתאים בשבילה

יחידות עשרות

2	5
3	1

+

יחידות עשרות

3	5
1	2

+

יחידות עשרות

4	3
2	5

+

יחידות עשרות

5	7
2	1

+

יחידות עשרות

2	5
4	4

+

יחידות עשרות

7	8
1	1


+

יחידות עשרות

5	3
3	3

+

איך הרגשתי במשימה? הקיפו את איש הלגו המתאים לתחושתכם



31 = _____

מקחו את מספרים במקום
המתאים בתבנית החיבור
במאנך יחידות ועשרות
במקום המתאים להם



41+25= _____

יחידות עשרות

+

77+11= _____

יחידות עשרות

+

5+31= _____

יחידות עשרות


+

82+11= _____


יחידות עשרות

+






מתרגלים חיבור במאָנר



	עשרות	יחידות
+	2	5
	3	1



נתחיל מקבית היחידות
נחבר יחידות ליחידות
עשרות לעשרות



לכל קבית יש את המקום
המתאים בשבילה

נוסח עיצובי לטוראה

	עשרות	יחידות
+	3	5
	1	2

	עשרות	יחידות
+	4	3
	2	5

	עשרות	יחידות
+	5	7
	2	1



	עשרות	יחידות
+	2	5
	4	4

	עשרות	יחידות
+	7	8
	1	1

	עשרות	יחידות
+	5	3
	3	3

איך הרגשתי במשימה? הקיפו את איש הלגו המתאים לתחושתכם



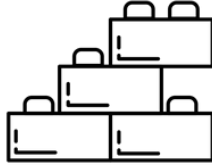


מתרגלים חיסור במאָן


נוסח עיצובי לטוראה

יחידות עשרות

2	7
1	1



נתחיל מקבית היחידות
נחסר יחידות מיחידות
עשרות מעשרות



לכל קביה יש את המקום
המתאים בשבילה

יחידות עשרות

7	7
3	2

יחידות עשרות

6	4
2	3

יחידות עשרות

5	7
2	1

יחידות עשרות

9	5
4	4

יחידות עשרות

7	8
1	1


יחידות עשרות

5	3
3	3


איך הרגשתי במשימה? הקיפו את איש הלגו המתאים לתחושתכם



שמי: _____



מתרגלים חיבור במאנר




	יחידות	עשרות
+	2	5
	3	1

$25+31=$ _____

מקמו את מספרים במקום המתאים בתבנית החיבור במאנר יחידות ועשרות במקום המתאים להם

נוסח עיצובי לזכרון



$43+11=$ _____

	יחידות	עשרות
+		

$55+21=$ _____

	יחידות	עשרות
+		

$77+12=$ _____

	יחידות	עשרות
+		

$45+22=$ _____

	יחידות	עשרות
+		


$65+11=$ _____

	יחידות	עשרות
+		


$82+11=$ _____

	יחידות	עשרות
+		

שמי: _____



מתחילים חיבור במאמר




$$134 + 232 = \underline{\hspace{2cm}}$$

	מאות	עשרות	יחידות
	1	3	4
+	2	3	2

$$357 + 412 = \underline{\hspace{2cm}}$$

	מאות	עשרות	יחידות
	3	5	7
+	4	1	2



נוסה עיצובים למונה

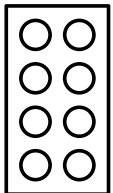
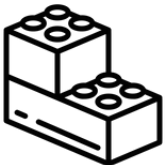


$$706 + 202 = \underline{\hspace{2cm}}$$

	מאות	עשרות	יחידות
	7	0	6
+	2	0	2

$$179 + 610 = \underline{\hspace{2cm}}$$

	מאות	עשרות	יחידות
	1	7	9
+	6	1	0




	מאות	עשרות	יחידות
	5	6	1
+	2	3	8

	מאות	עשרות	יחידות
	4	5	2
+	3	4	2


	מאות	עשרות	יחידות
	8	7	6
+	1	1	0



שמי: _____



מתרגלים חיבור במאנר



יחידות עשרות


2	5
3	1

+

$25+31=$ _____

מקמו את מספרים במקום המתאים בתבנית החיבור במאנר יחידות ועשרות במקום המתאים להם

נוסח עיצובי לזרקה



$35+12=$ _____

יחידות עשרות

+

$41+25=$ _____

יחידות עשרות

+

$77+11=$ _____

יחידות עשרות

+

$40+32=$ _____

יחידות עשרות

+

$65+31=$ _____

יחידות עשרות


+

$82+11=$ _____


יחידות עשרות

+

שמי: _____



מתרגלים חיסור במאנר



יחידות עשרות


2	5
1	1

--	--

$$25 - 11 = \underline{\quad}$$

מקמו את מספרים במקום המתאים בתבנית החיסור במאנר יחידות ועשרות במקום המתאים להם

נוסח עיצובי להוראה



$$35 - 12 = \underline{\quad}$$

יחידות עשרות

--	--

$$47 - 25 = \underline{\quad}$$

יחידות עשרות

--	--

$$77 - 11 = \underline{\quad}$$

יחידות עשרות

--	--

$$42 - 32 = \underline{\quad}$$

יחידות עשרות

--	--

$$65 - 31 = \underline{\quad}$$


יחידות עשרות

--	--


$$82 - 11 = \underline{\quad}$$

יחידות עשרות

--	--



מתרגלים חיבור במאנר




$$\begin{array}{r} 1 \\ + \\ \begin{array}{|c|c|} \hline 2 & 6 \\ \hline 3 & 6 \\ \hline \end{array} \\ \hline \begin{array}{|c|c|} \hline 6 & 2 \\ \hline \end{array} \end{array}$$

נתחיל מקבית היחידות נחבר יחידות ליחידות עשרות לעשרות. שימו לב כאשר סכום היחידות גדול יותר מ-9 נשים תזכרת למעלה כדי שלא נשכח להוסיף.

$6 + 6 = 12$

נתחיל מהיחידות



הסכום שלנו גדול מ-9 והוא 12 לכן נרשם שתיים למטה ואחד למעלה בקבית העזר הקטנה

$2 + 3 = 5$

$5 + 1 = 6$

נעבד לחבר את העשרות ולא לשכח לחבר גם המספר בקבית העזר לסכום העשרות





$$\begin{array}{r} \\ + \\ \begin{array}{|c|c|} \hline 2 & 4 \\ \hline 1 & 6 \\ \hline \end{array} \\ \hline \begin{array}{|c|c|} \hline & \\ \hline \end{array} \end{array}$$

$$\begin{array}{r} \\ + \\ \begin{array}{|c|c|} \hline 3 & 6 \\ \hline 1 & 6 \\ \hline \end{array} \\ \hline \begin{array}{|c|c|} \hline & \\ \hline \end{array} \end{array}$$

$$\begin{array}{r} \\ + \\ \begin{array}{|c|c|} \hline 3 & 4 \\ \hline 1 & 7 \\ \hline \end{array} \\ \hline \begin{array}{|c|c|} \hline & \\ \hline \end{array} \end{array}$$

איך הרגשתי במשימה? הקיפו את איש הלגו המתאים לתחושתכם






מתרגלים חיבור במאנר

$$\begin{array}{r}
 1 \\
 + \begin{array}{|c|c|} \hline 2 & 6 \\ \hline 3 & 6 \\ \hline \end{array} \\
 \hline
 \begin{array}{|c|c|} \hline 6 & 2 \\ \hline \end{array}
 \end{array}$$

נתחיל מקבוצת היחידות נחבר יחידות ליחידות
 עשרות לעשרות.
 שימו לב באשר סכום היחידות גדול יותר
 מ-9 נשים תזכרת למעלה כדי שלא נשכח להוסיף



נוסח עיצובי לתורה

$$\begin{array}{r}
 \\
 + \begin{array}{|c|c|} \hline 5 & 4 \\ \hline 1 & 7 \\ \hline \end{array} \\
 \hline
 \begin{array}{|c|c|} \hline & \\ \hline \end{array}
 \end{array}$$

$$\begin{array}{r}
 \\
 + \begin{array}{|c|c|} \hline 7 & 6 \\ \hline 1 & 8 \\ \hline \end{array} \\
 \hline
 \begin{array}{|c|c|} \hline & \\ \hline \end{array}
 \end{array}$$

$$\begin{array}{r}
 \\
 + \begin{array}{|c|c|} \hline 4 & 4 \\ \hline 2 & 7 \\ \hline \end{array} \\
 \hline
 \begin{array}{|c|c|} \hline & \\ \hline \end{array}
 \end{array}$$

$$\begin{array}{r}
 \\
 + \begin{array}{|c|c|} \hline 6 & 8 \\ \hline 2 & 3 \\ \hline \end{array} \\
 \hline
 \begin{array}{|c|c|} \hline & \\ \hline \end{array}
 \end{array}$$

$$\begin{array}{r}
 \\
 + \begin{array}{|c|c|} \hline 6 & 5 \\ \hline 1 & 8 \\ \hline \end{array} \\
 \hline
 \begin{array}{|c|c|} \hline & \\ \hline \end{array}
 \end{array}$$

$$\begin{array}{r}
 \\
 + \begin{array}{|c|c|} \hline 4 & 9 \\ \hline 2 & 1 \\ \hline \end{array} \\
 \hline
 \begin{array}{|c|c|} \hline & \\ \hline \end{array}
 \end{array}$$