

חוברת חיסור עה פריטה

7 התרה בתרגילי החסור
שתרו את התרגילים

<table border="1"> <tr><td>עשרות</td><td>יחידות</td></tr> <tr><td>8</td><td>8</td></tr> <tr><td>5</td><td>9</td></tr> </table>	עשרות	יחידות	8	8	5	9	<table border="1"> <tr><td>עשרות</td><td>יחידות</td></tr> <tr><td>7</td><td>3</td></tr> <tr><td>1</td><td>9</td></tr> </table>	עשרות	יחידות	7	3	1	9	<table border="1"> <tr><td>עשרות</td><td>יחידות</td></tr> <tr><td>4</td><td>5</td></tr> <tr><td>2</td><td>9</td></tr> </table>	עשרות	יחידות	4	5	2	9
עשרות	יחידות																			
8	8																			
5	9																			
עשרות	יחידות																			
7	3																			
1	9																			
עשרות	יחידות																			
4	5																			
2	9																			
<table border="1"> <tr><td>עשרות</td><td>יחידות</td></tr> <tr><td>6</td><td>1</td></tr> <tr><td>2</td><td>9</td></tr> </table>	עשרות	יחידות	6	1	2	9	<table border="1"> <tr><td>עשרות</td><td>יחידות</td></tr> <tr><td>9</td><td>0</td></tr> <tr><td>2</td><td>9</td></tr> </table>	עשרות	יחידות	9	0	2	9	<table border="1"> <tr><td>עשרות</td><td>יחידות</td></tr> <tr><td>9</td><td>1</td></tr> <tr><td>2</td><td>9</td></tr> </table>	עשרות	יחידות	9	1	2	9
עשרות	יחידות																			
6	1																			
2	9																			
עשרות	יחידות																			
9	0																			
2	9																			
עשרות	יחידות																			
9	1																			
2	9																			

3 התרה מספרים
צאו את המספר העשרות שלמות ואחר מן צאו אותו לאחר המרה של עשרת אחת

50 → → $50 - 3 =$

50 → → $50 - 7 =$

60 → → $60 - 26 =$

יחידות:

5	10
8	8
2	6

11 קושבון פריית הקפה

מה פיייתם רוצים להכין? מהית פקשה חשבו את עלות כל הפריטים יחד

חישובים:

22, 14, 13, 17, 9, 12, 10, 15

20 שק פכל:

פכס שיש לזנה: $17 + 9 = 26$

הכס לזנה יש מחסיק כסל עלט העבור הפריטים:


הכס יש לזנה מספיק שקלים הודדים לתת לאוכר?



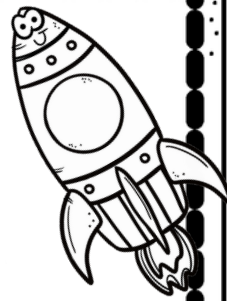

חשבו כמה עודף צריכה להכל זנה:

קרזיט לתמונות 8:



ונסה עיצובים להוראה








שְׁמִי:



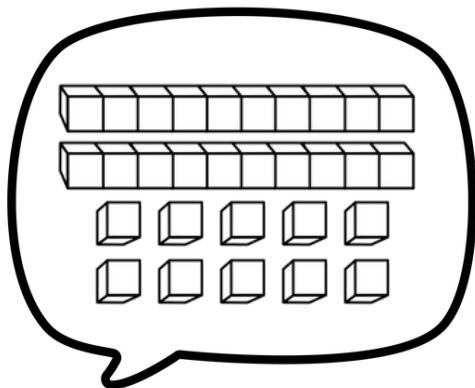
חיסור עם פדיטה



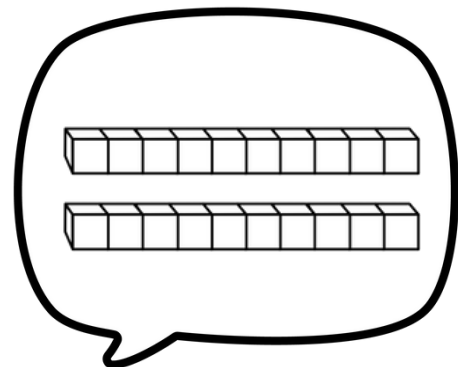
הקרה בתרגילי ההסוד



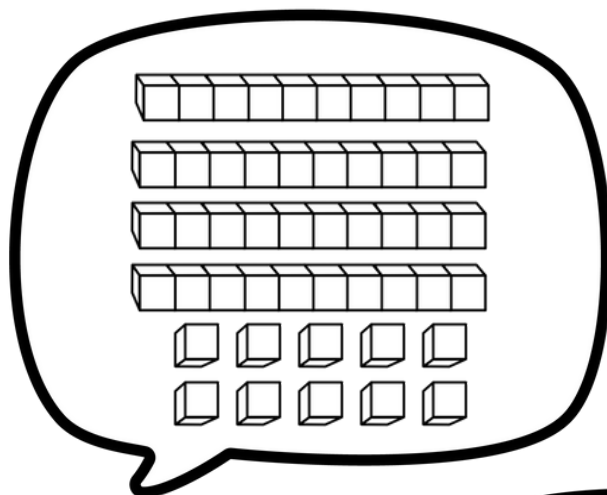
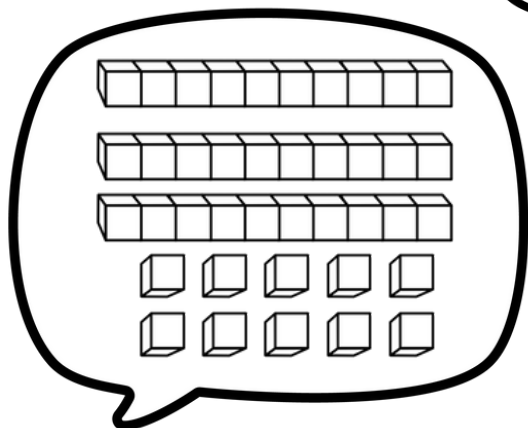
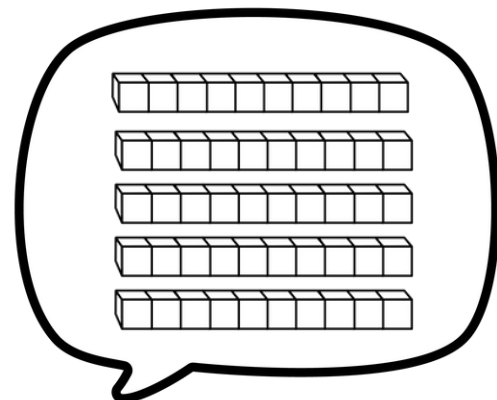

לפניכם פתוחים ספרים על העמודים 50 ו-20. אתם צריכים להסיר את הספרים מהעמודים ולהניחם על העמודים האחרים.
זהו תרגיל החישוב והסדר.



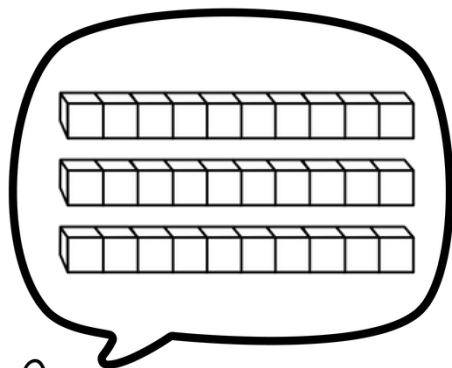
50



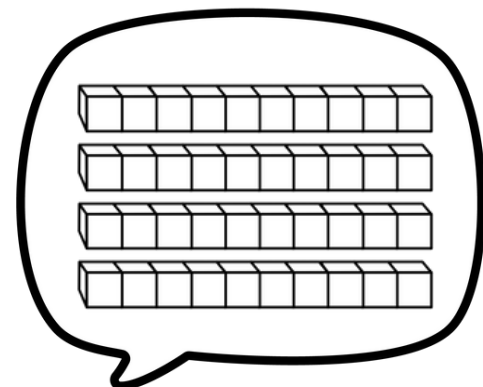
20




40




30



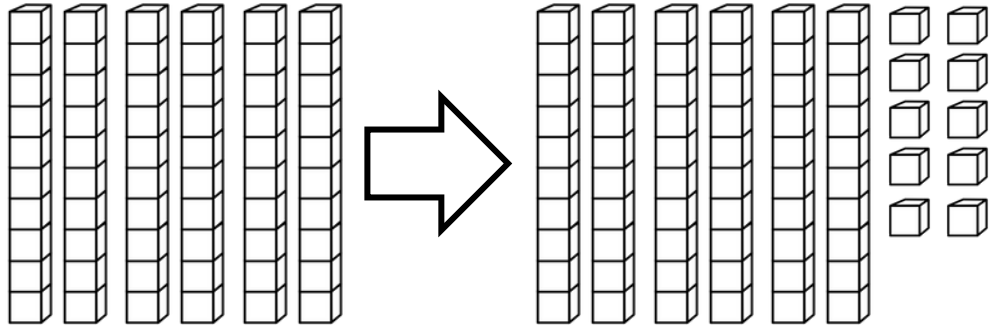


הקדמת עשרות ליחידות בודדות

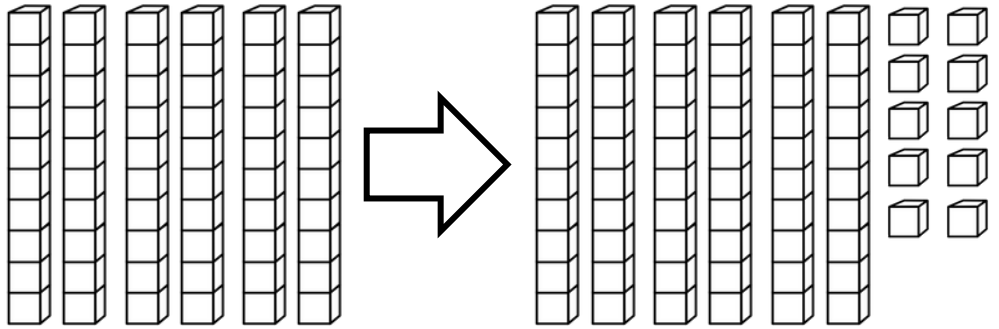


לִּצְיָא אַתְּ הַמְסוּפֵר הַעֲשָׂרוֹת שֶׁלֹּא חָתוּ וְאַחַר מִכּוּן
לִּצְיָא אִתּוֹ לְאַחַר הַמְרָה שֶׁל עֲשָׂרוֹת אֶחָת


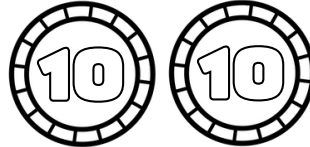
20 →





30 →





=



50 =



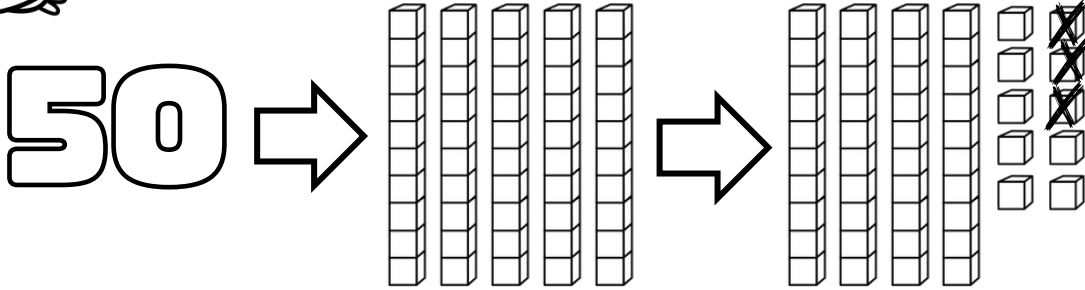

60 =




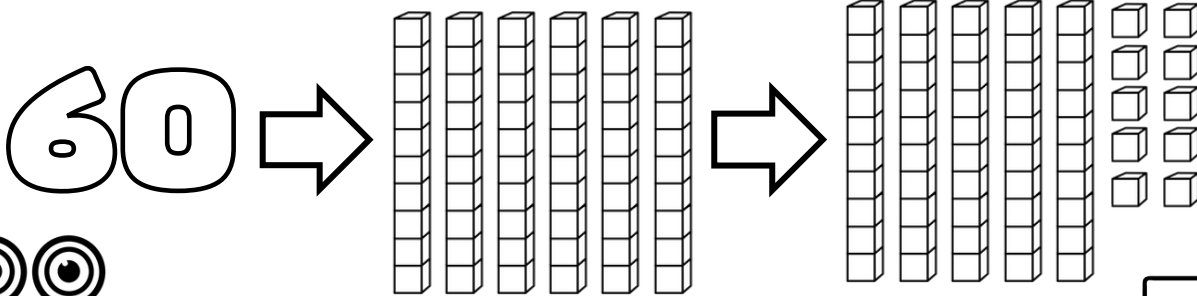


הגדת מספרים

יצא את המספר העשרות שלפחות וצא את אחד אחד
 יצאו וצא אחד המאה של עשרות אחד



$$50 - 3 = \text{[]}$$



$$60 - 7 = \text{[]}$$

$$60 - 26 = \text{[]}$$

תוצר	תוצר!


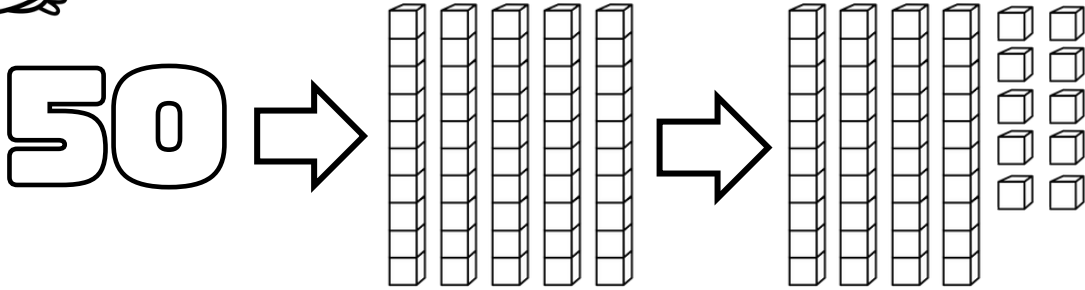


עשרות	יחידות
5	10
6	0
2	6




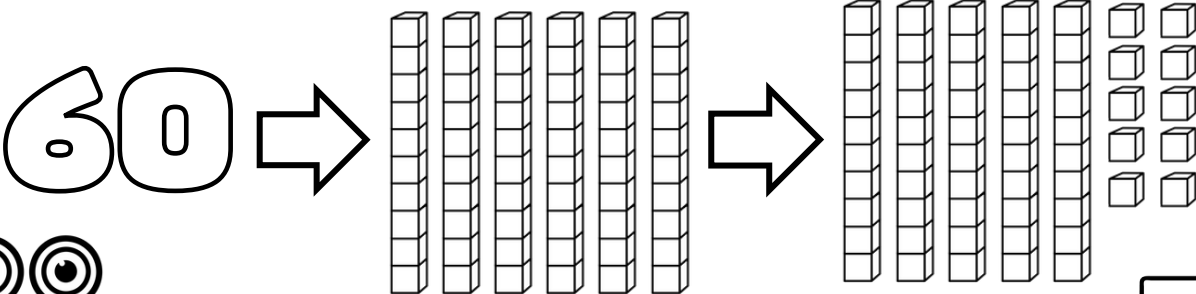
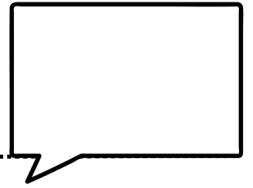


הגדת מספרים

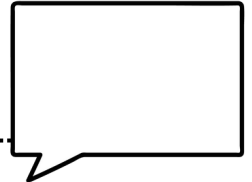
לציאת המספר העשרות שלוחות וצריך לזכור
לציאתו צריך להחזיר את השארית!




$$50 - 3 = \text{[]}$$



$$60 - 7 = \text{[]}$$



$$60 - 26 = \text{[]}$$





תוצר	חילוק!

עשרות	יחידות
5	10
6	0
2	6



המקרה בתרגילי החסור



פתרו את התרגילים



$$60 - 37 = \text{[]}$$

עשרות	יחידות

עשרות	יחידות
6	0
3	7




$$70 - 29 = \text{[]}$$

עשרות	יחידות


עשרות	יחידות
7	0
2	9

המקרה בתרגילי החסור

פותרו את התרגילים



$$70 - 37 = \text{[]}$$




עשרות	יחידות

עשרות	יחידות
7	0
3	7
<hr/>	

כמה מטבעות
 של 10 שקלים
 נשארו במקום בעשרות
 לאחר הפחית?



תשובה:



$$40 - 29 = \text{[]}$$



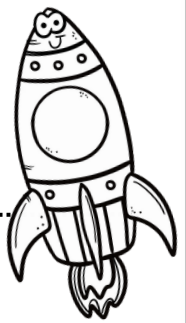
עשרות	יחידות

עשרות	יחידות
4	0
2	9
<hr/>	




הקָרָה בַּתְּדָגִילִי הַחֶסֶד

פְּתוּרוֹ אֶת הַתְּדָגִילִים



$$73 - 37 = \text{[]}$$




עֲשָׂרוֹת	יְחִידוֹת

עֲשָׂרוֹת	יְחִידוֹת
7	3
1	9




כַּמָּה מִתְּדָגִילִים
עָלְתָה לְךָ אִתְּךָ?
לְמַקּוֹם הַיְחִידוֹת
אֵיךְ הַתְּדָגִילִים?

תְּשׁוּבָה:



$$84 - 59 = \text{[]}$$




עֲשָׂרוֹת	יְחִידוֹת

עֲשָׂרוֹת	יְחִידוֹת
8	4
5	9



המקרה בתרגילי החסור

פותרו את התרגילים



עשרות	יחידות

עשרות	יחידות
7	2
1	8

עשרות	יחידות

עשרות	יחידות
9	3
2	9

עשרות	יחידות

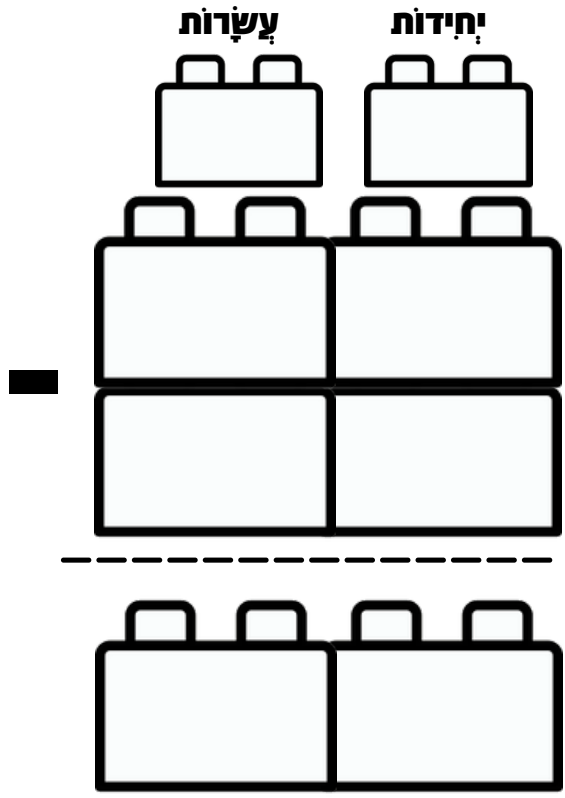

עשרות	יחידות
8	1
3	4

עשרות	יחידות
6	0
1	9

עשרות	יחידות



הַמְרָה בַּתְּרֵגִילִי הַחֶסֶד




עֲשׂוֹת	יְחִידוֹת



המקרה בתרגילי החסור

פותרו את התרגילים



עשרות	יחידות

עשרות	יחידות
6	5
3	8

עשרות	יחידות

עשרות	יחידות
8	1
3	4

עשרות	יחידות

עשרות	יחידות
8	8
5	9


עשרות	יחידות
9	3
4	9

עשרות	יחידות



המקרה בתרגילי החסוד

פתרו את התרגילים



עשרות

יחידות

8	8
5	9

--	--

עשרות

יחידות

7	3
1	9

--	--

עשרות

יחידות

4	5
2	9

--	--

עשרות

יחידות

6	1
2	9

--	--

עשרות

יחידות

9	0
6	9

--	--

עשרות

יחידות



9	1
4	9

--	--



המקרה בתרגילי החסוד

פתרו את התרגילים



עשרות יחידות

6	2
1	7

--	--

עשרות יחידות

9	1
1	9

--	--

עשרות יחידות

5	7
2	2

--	--

עשרות יחידות

9	0
6	9

--	--

עשרות יחידות

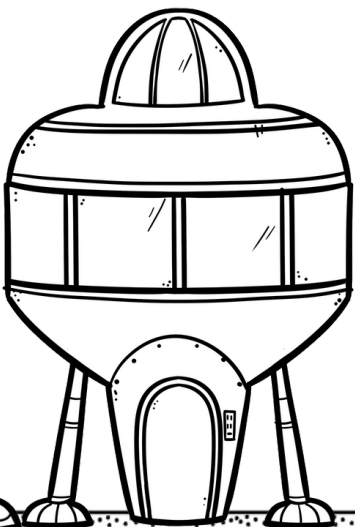
7	5
6	9

--	--

עשרות יחידות

9	4
4	7


--	--



המקרה בתרגילי החסור



לעזרת קוביה של 10 את המספרים החסרים ופתרו את התרגילים



עשרות	יחידות
9	2

עשרות	יחידות
5	1

עשרות	יחידות
9	0


עשרות	יחידות
9	0

עשרות	יחידות
9	3


עשרות	יחידות
8	1

עשרות	יחידות
8	2

עשרות	יחידות
7	1

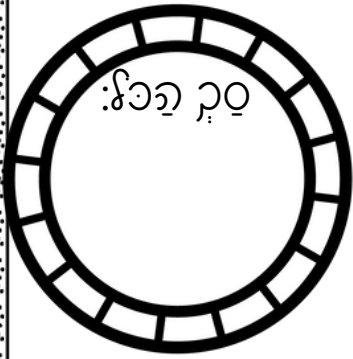


הַשָּׁבוּעוֹן בְּבַיִת הַהֶקְדָּה



נָה בַּיִתָּם רוֹצִים לְכַתֵּם מַה יֵּאָמַר הַקּוֹף הַלֵּלוֹ אֵת צֵלָה כֵּן הַפְּרִיטִים יַחַד

חִשּׁוּבִים:



הַכֵּסֶף שֶׁלְּאַנָּה

אַנָּה רֹצֶת לְקַנֹּת מַאֲפֵן וְכֹס קָפוֹ הַקְּטָנָה
הַלֵּלוֹ מָה צֵלָה הַפְּרִיטִים יַחַד




 +
 
 =
 

הַכֵּסֶף שֶׁלְּאַנָּה יֵשׁ מִסְפֵּיק כֵּסֶף לְעֵלֵם לְהַצֵּלֵהוּ הַפְּרִיטִים:

הַכֵּסֶף שֶׁלְּאַנָּה מִסְפֵּיק לְקַנֹּת מַה אֲפִיק לְהַצֵּלֵהוּ?

הָשִׁבוּ כְּמָה עוֹדף צְרִיכָה לְקַבֵּל דָּנָה:

קרזיטס ותוצות:



ונסה עיצובים עהוראה

