



מתרגלים חיבור וחיסור

בתחום ה-100



העלרת לפני לאו להמחשת המבנה העשרוני



שמי: _____

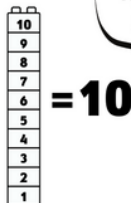
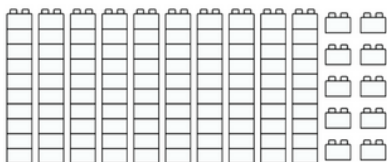


מתרגלים חיבור בתחום ה-100


פתרו את תרגילי החיבור, תוכלו להעזר בצביעת לבני ה-10
צבעו כל מספר בצבע שונה



$40+12=$ _____




כל יחידת לבנים קזאת
שוה ל-10 כי היא מרכבת
מ-10 אבני לגו קטנות

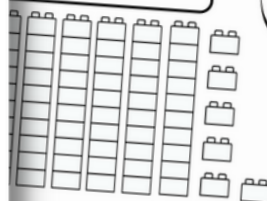


מתרגלים חיסור בתחום 100


פתרו את תרגילי החיסור, תוכלו להעזר בצביעה



$66-35=$ _____

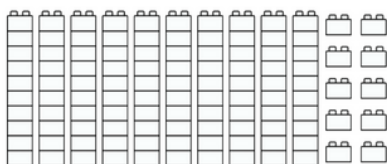


כל יחידת לבנים קזאת
שוה ל-10 כי היא מרכבת
מ-10 אבני לגו קטנות

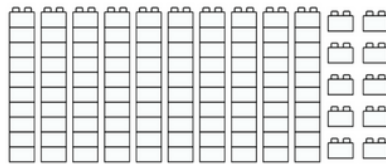


= 10

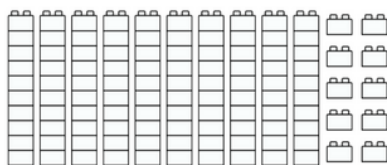
$30+25=$ _____



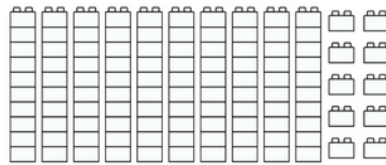
$50+17=$ _____




$80+13=$ _____



$19+80=$ _____



$87-62=$ _____



$97-27=$ _____



ונסה עיצובים להוראה

ונסה עיצובים להוראה

$77-33=$ _____




איך הרגשתי במשיקה? הקיפו את איש הלגו
המתאים לתחושתכם



<http://>




שמי: _____

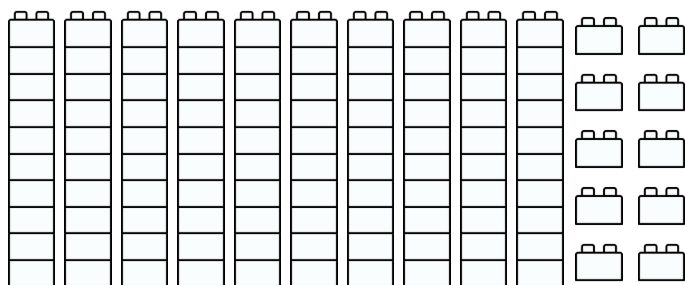


מתרגלים חיבור בתחום ה-100

פתרו את תרגילי החיבור, תוכלו להעזר בצביעת לבני ה-10
צבעו כל מספר בצבע שונה




$$20 + 30 = \underline{\hspace{2cm}}$$

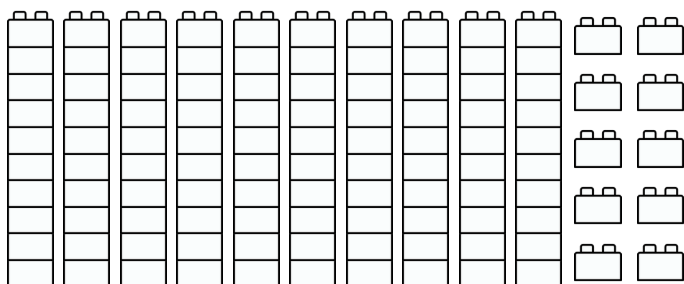


= 10

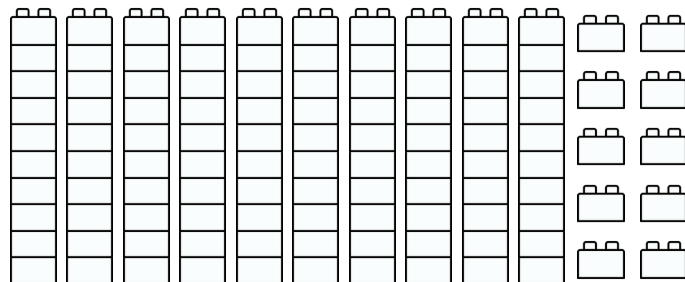
כל יחידת לבנים כזאת
שוה ל-10 כי היא מרכיבת
מ-10 אבני לגו קטנות



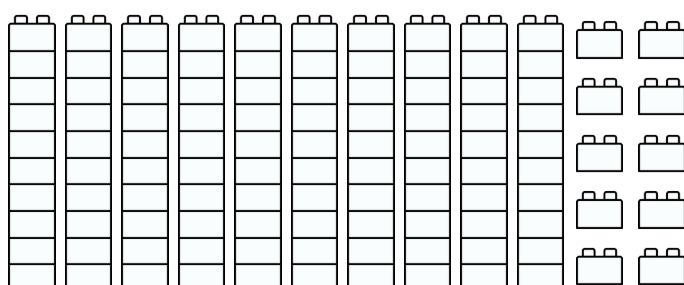
$$30 + 40 = \underline{\hspace{2cm}}$$



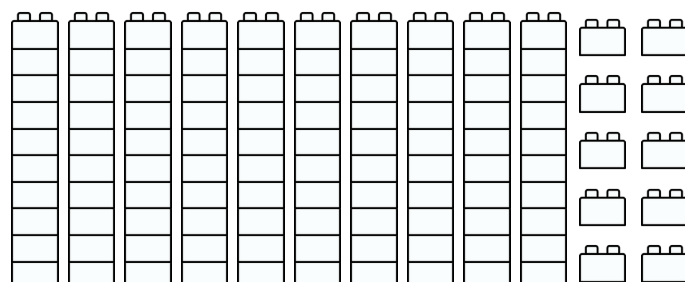
$$50 + 10 = \underline{\hspace{2cm}}$$



$$70 + 20 = \underline{\hspace{2cm}}$$




$$10 + 80 = \underline{\hspace{2cm}}$$



שמי: _____

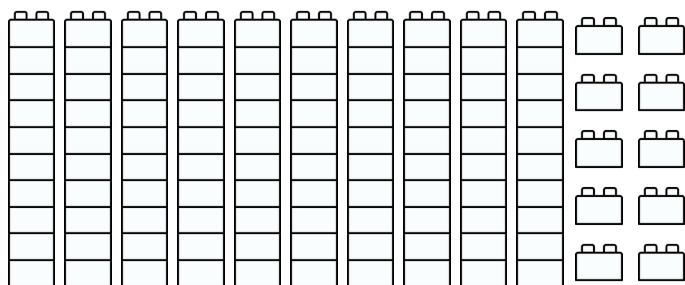


מתרגלים חיבור בתחום ה-100



פתרו את תרגילי החיבור, תוכלו להעזר בצביעת לבני ה-10
צבעו כל מספר בצבע שונה


$$20+5= \underline{\hspace{2cm}}$$



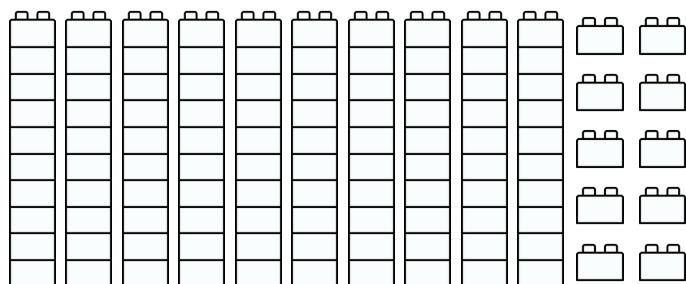
כל יחידת לבנים כזאת
שוה ל-10 כי היא מרכיבת
מ-10 אבני לגו קטנות



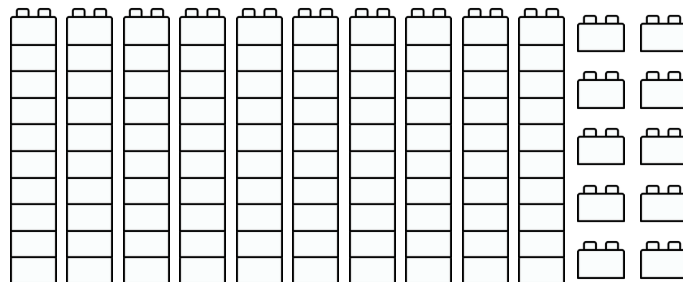
$$= 10$$



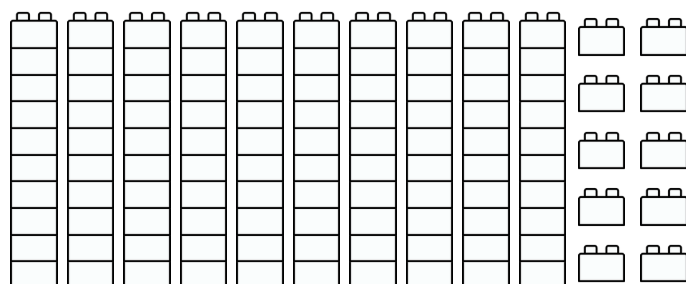
$$50+4= \underline{\hspace{2cm}}$$



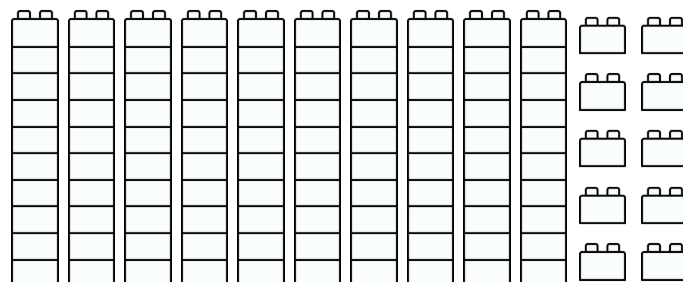
$$50+9= \underline{\hspace{2cm}}$$




$$70+2= \underline{\hspace{2cm}}$$



$$10+12= \underline{\hspace{2cm}}$$



שמי: _____

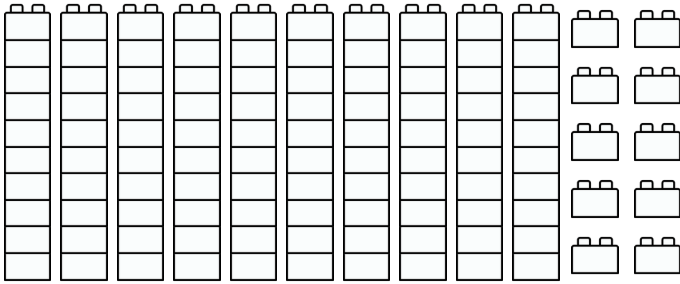


מתרגלים חיבור בתחום ה-100



פתרו את תרגילי החיבור, תוכלו להעזר בצביעת לבני ה-10
צבעו כל מספר בצבע שונה


$$40 + 12 = \underline{\hspace{2cm}}$$



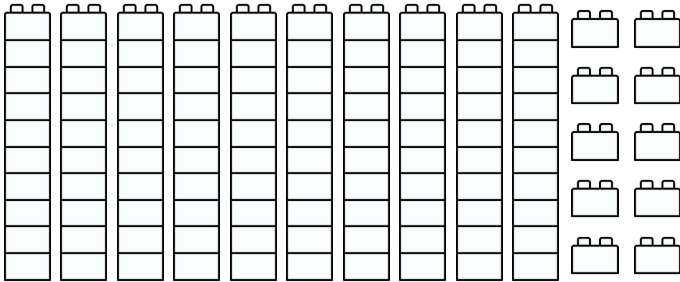
כל יחידת לבנים כזאת
שוה ל-10 כי היא מרכיבת
מ-10 אבני לגו קטנות



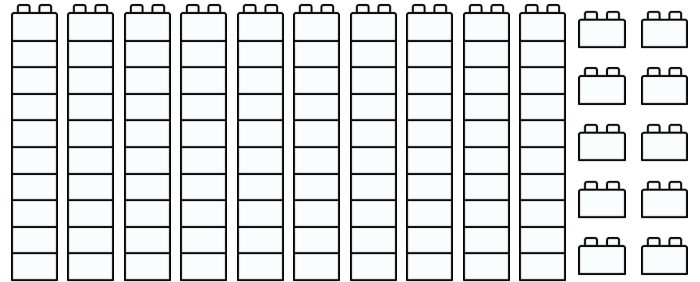
= 10



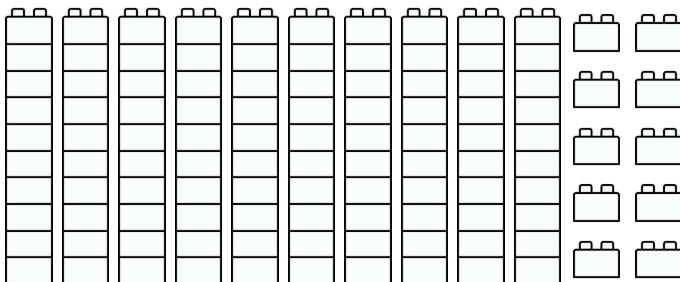
$$30 + 25 = \underline{\hspace{2cm}}$$



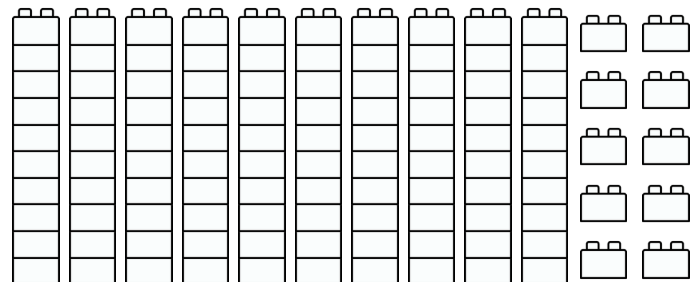
$$50 + 17 = \underline{\hspace{2cm}}$$




$$80 + 13 = \underline{\hspace{2cm}}$$



$$19 + 80 = \underline{\hspace{2cm}}$$




שמי: _____



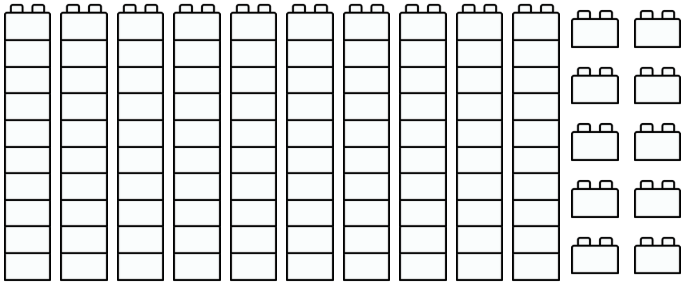
מתרגלים חיבור בתחום ה-100

פתרו את תרגילי החיבור, תוכלו להעזר בצביעת לבני ה-10

צבעו כל מספר בצבע שונה



$$12 + 34 = \underline{\hspace{2cm}}$$



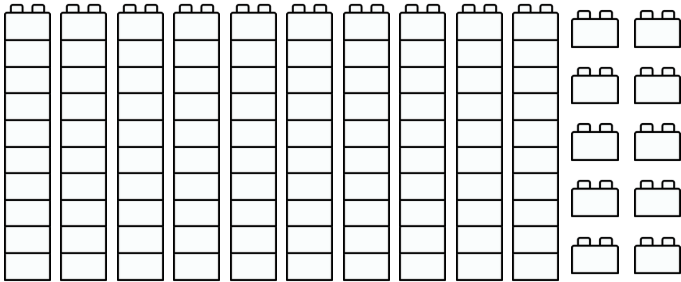
כל יחידת לבנים כזאת
שוה ל-10 כי היא מרכיבת
מ-10 אבני לגו קטנות



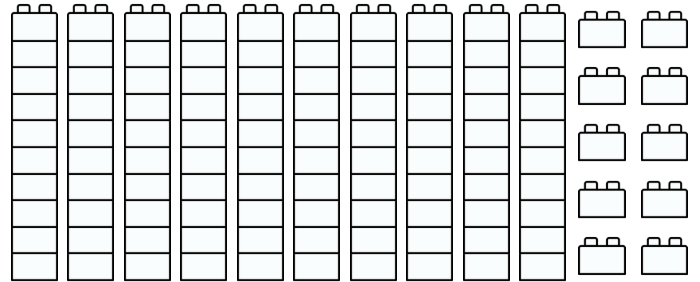
= 10



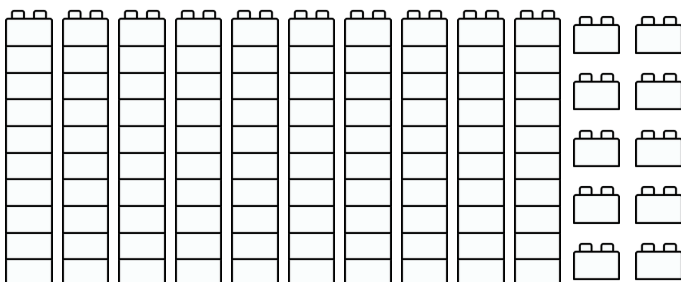
$$30 + 16 = \underline{\hspace{2cm}}$$



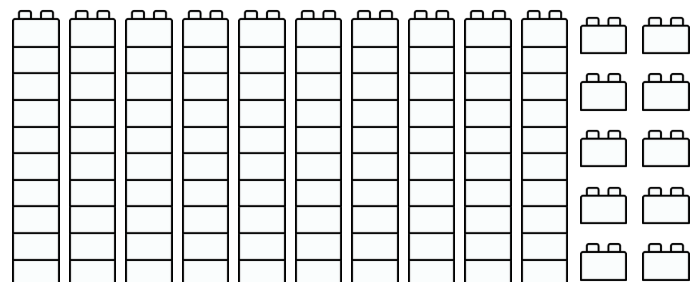
$$45 + 31 = \underline{\hspace{2cm}}$$




$$37 + 11 = \underline{\hspace{2cm}}$$



$$18 + 51 = \underline{\hspace{2cm}}$$




שמי: _____

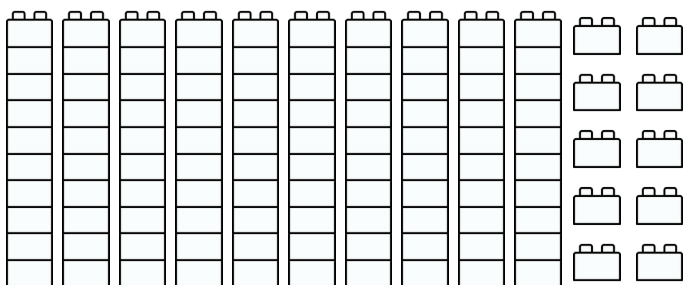


מתרגלים חיבור בתחום ה-100

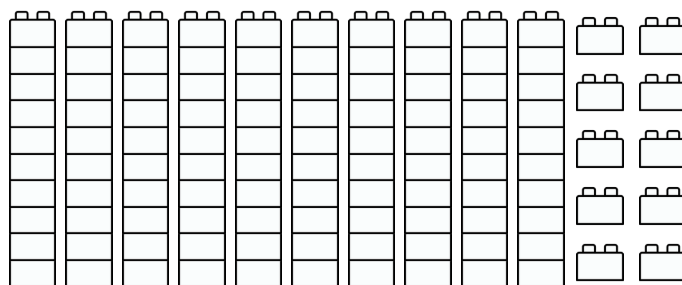
פתרו את תרגילי החיבור, תוכלו להעזר בצביעת לבני ה-10
צבעו כל מספר בצבע שונה



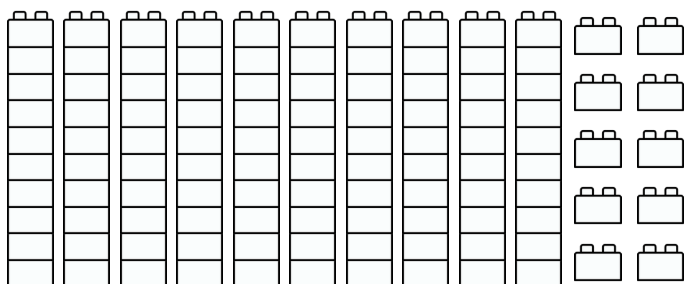
$$35 + 12 = \underline{\hspace{2cm}}$$



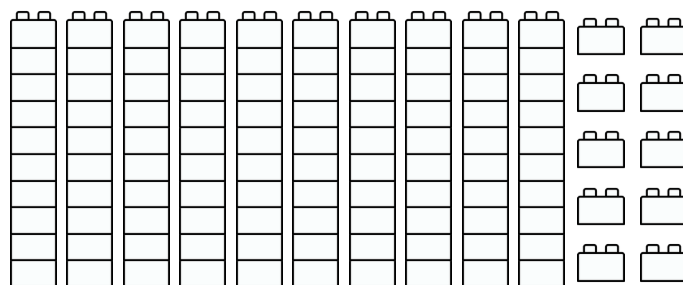
$$46 + 12 = \underline{\hspace{2cm}}$$



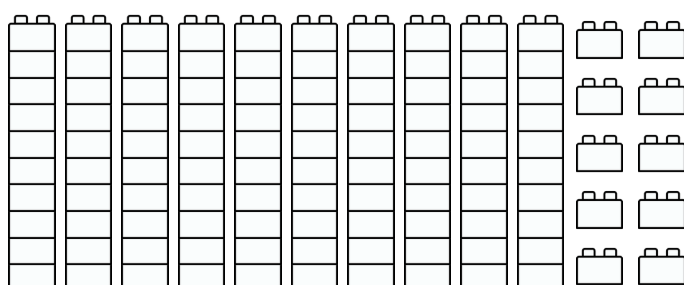
$$33 + 24 = \underline{\hspace{2cm}}$$



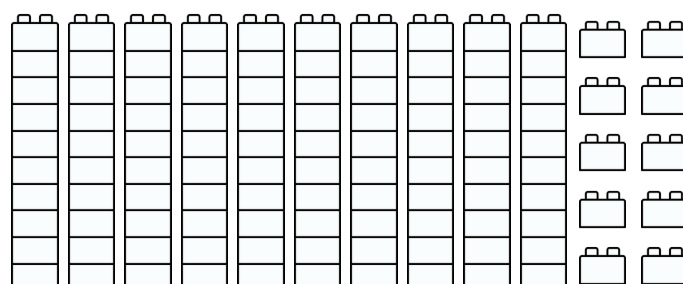
$$51 + 17 = \underline{\hspace{2cm}}$$




$$85 + 11 = \underline{\hspace{2cm}}$$



$$17 + 81 = \underline{\hspace{2cm}}$$




שמי: _____

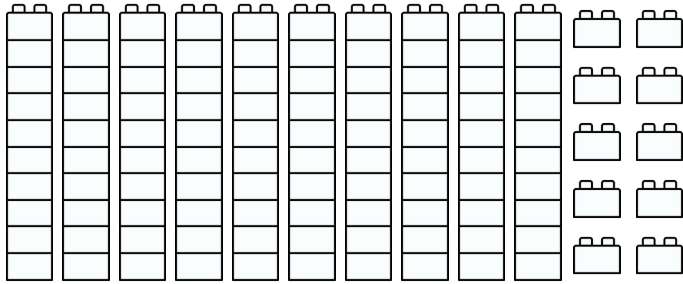


מתרגלים חיבור בתחום ה-100

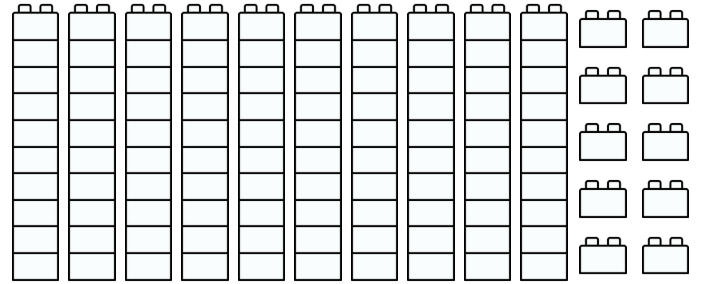
פתרו את תרגילי החיבור, תוכלו להעזר בצביעת לבני ה-10
צבעו כל מספר בצבע שונה



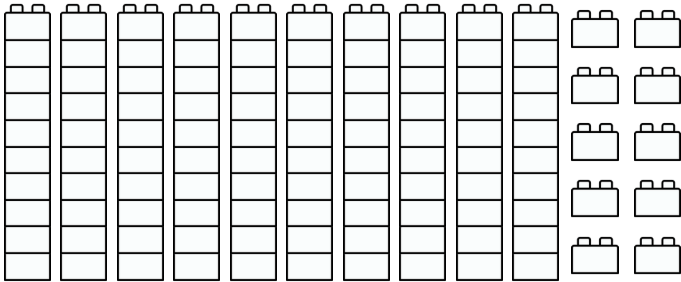
$$38 + 12 = \underline{\hspace{2cm}}$$



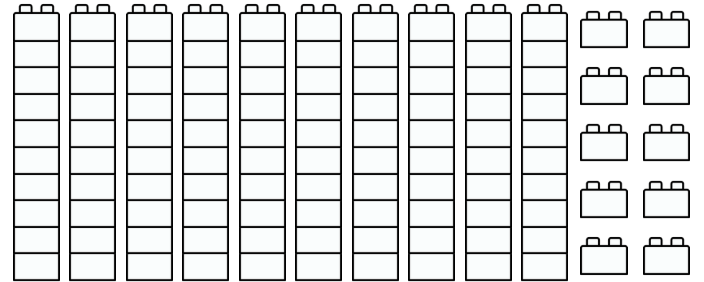
$$46 + 14 = \underline{\hspace{2cm}}$$



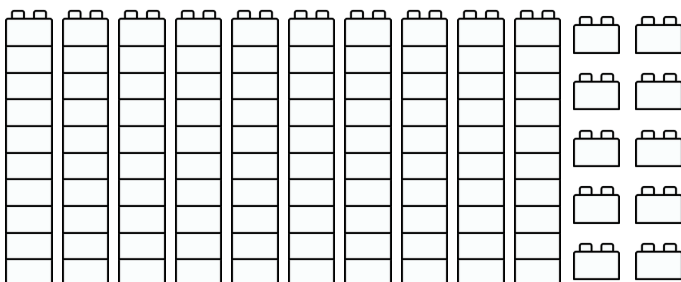
$$33 + 27 = \underline{\hspace{2cm}}$$



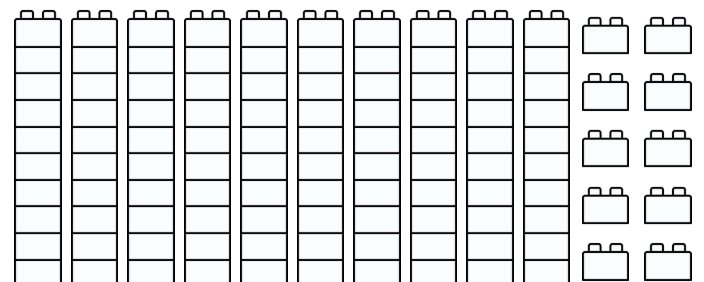
$$53 + 17 = \underline{\hspace{2cm}}$$



$$85 + 15 = \underline{\hspace{2cm}}$$



$$19 + 81 = \underline{\hspace{2cm}}$$



שמי: _____

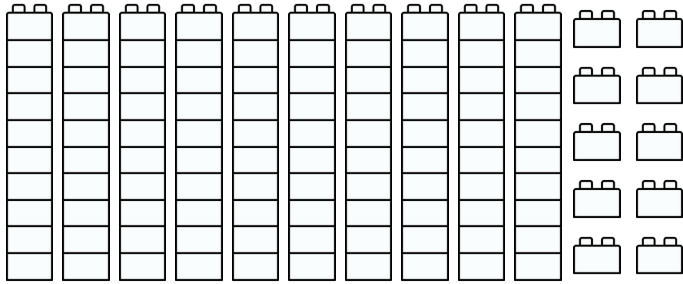


מתרגלים חיבור בתחום ה-100

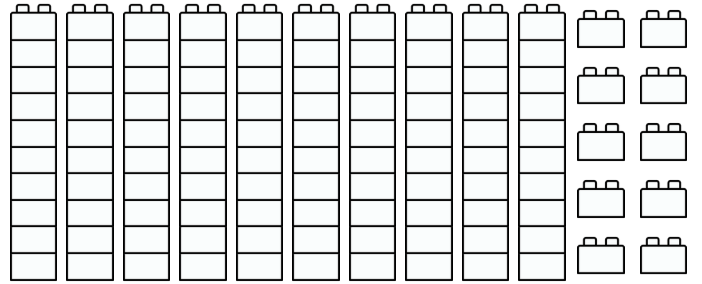
פתרו את תרגילי החיבור, תוכלו להעזר בצביעת לבני ה-10
צבעו כל מספר בצבע שונה



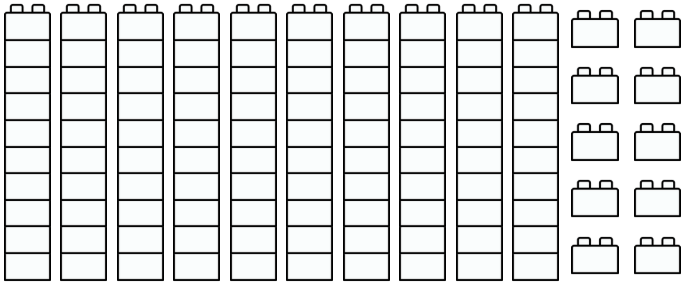
$$48+2=$$



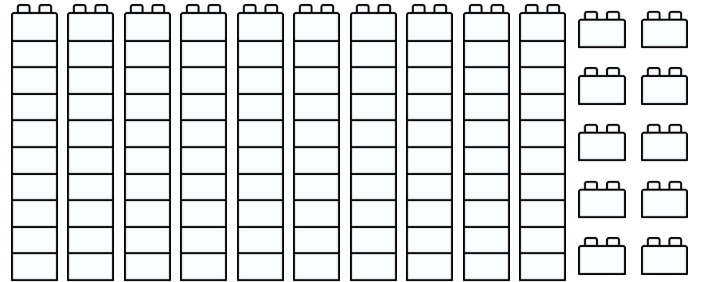
$$46+4=$$



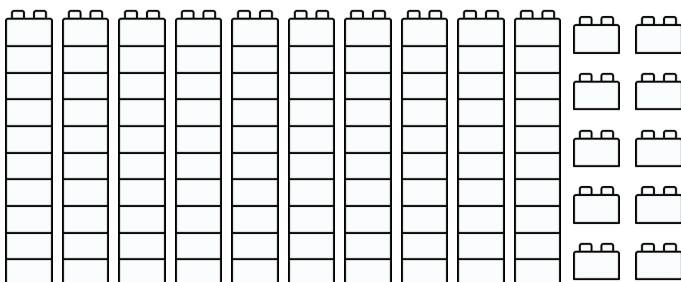
$$55+5=$$



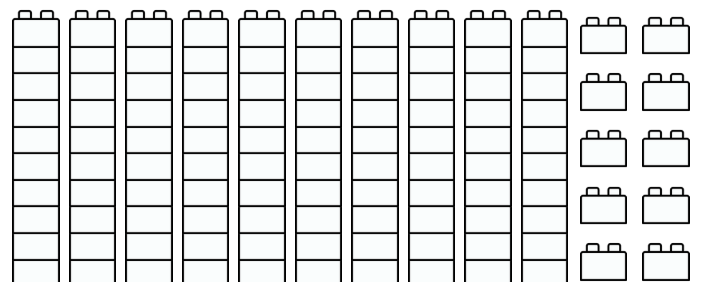
$$66+4=$$




$$37+3=$$




$$44+6=$$



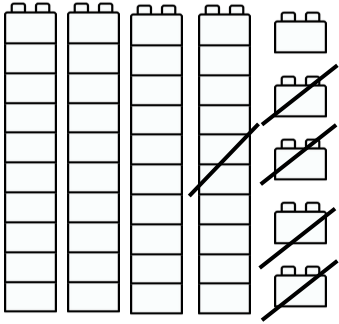


מתרגלים חסור בתחום ה-100

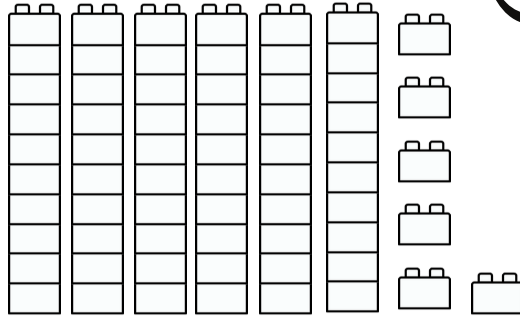


פתרו את תרגילי החסור, תוכלו להעזר בצביעת לבני ה-10

$$45 - 14 = \underline{\hspace{2cm}}$$



$$66 - 35 = \underline{\hspace{2cm}}$$

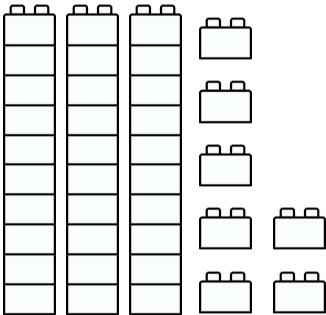


כל יחידת לבנים כזאת שווה ל-10 כי היא מרכיבת מ-10 אבני לגו קטנות

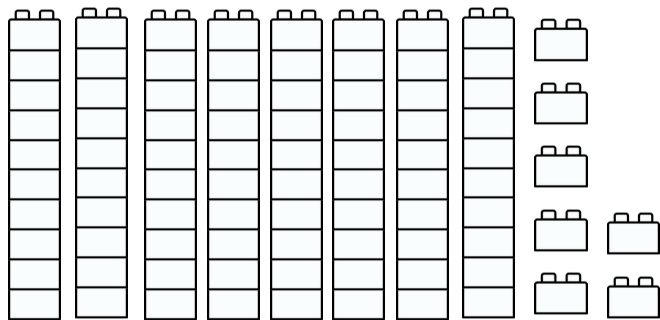


= 10

$$37 - 7 = \underline{\hspace{2cm}}$$

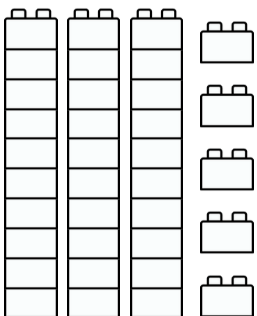


$$87 - 62 = \underline{\hspace{2cm}}$$

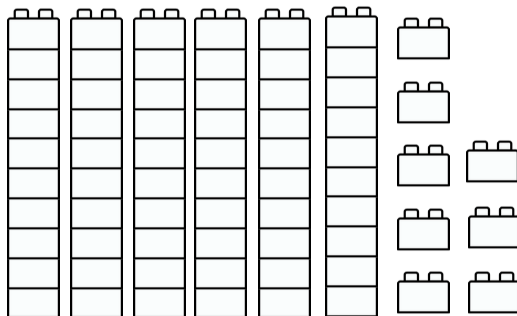


יוזמה עיצובית להוראה

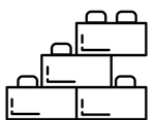
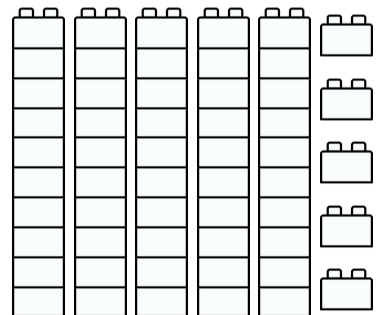
$$35 - 15 = \underline{\hspace{2cm}}$$




$$68 - 58 = \underline{\hspace{2cm}}$$




$$55 - 30 = \underline{\hspace{2cm}}$$



איך הדגשתי במשימה? הקיפו את איש הלגו המתאים לתחושתכם

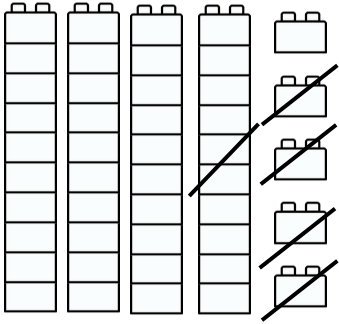


מתרגלים חסור בתחום ה-100

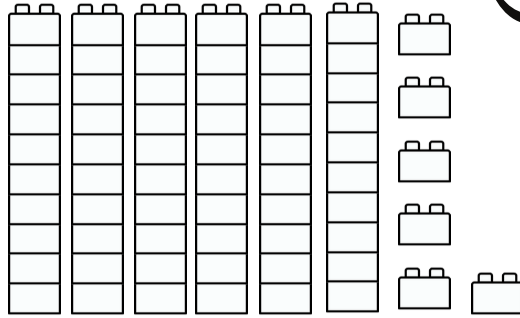


פתרו את תרגילי החסור, תוכלו להעזר בצביעת לבני ה-10

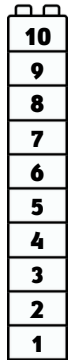
$$45 - 14 = \underline{\hspace{2cm}}$$



$$66 - 35 = \underline{\hspace{2cm}}$$

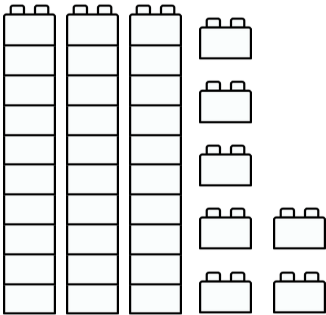


כל יחידת לבנים כזאת שווה ל-10 כי היא מרכיבת מ-10 אבני לגו קטנות

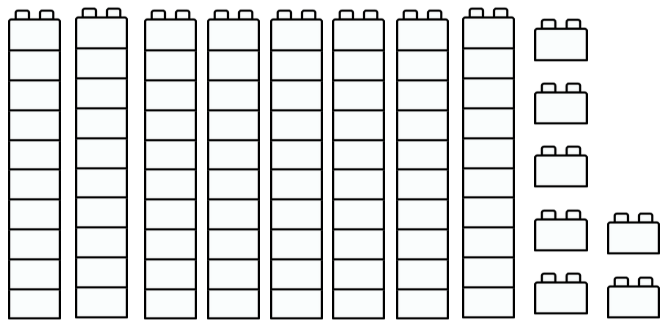


= 10

$$37 - 7 = \underline{\hspace{2cm}}$$

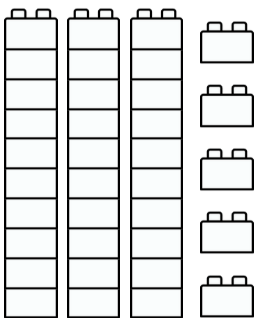


$$87 - 62 = \underline{\hspace{2cm}}$$

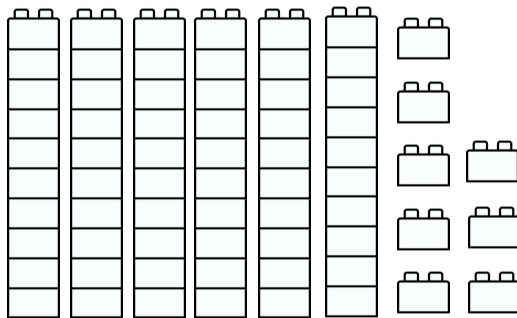


יוזמה עיצובית להוראה

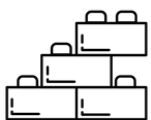
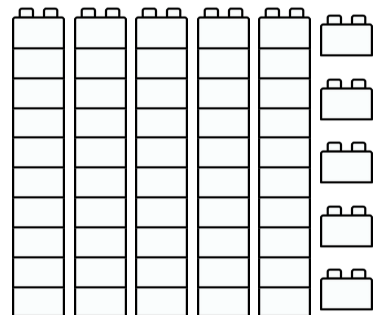
$$35 - 15 = \underline{\hspace{2cm}}$$




$$68 - 58 = \underline{\hspace{2cm}}$$




$$55 - 30 = \underline{\hspace{2cm}}$$



איך הרגשתי במשימה? הקיפו את איש הלגו המתאים לתחושתכם

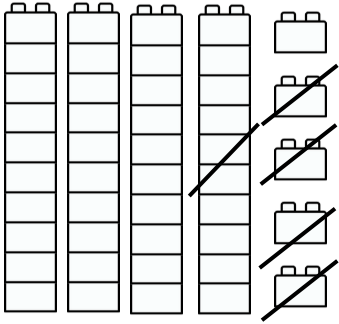


מְתַרְגְּלִים חֶסֶד בְּתַחֵם הַ-100

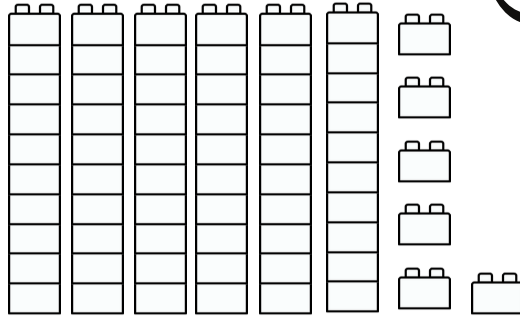


פְתָרוּ אֶת תַּרְגִּילֵי הַחֶסֶד, תּוֹכְלוּ לְהַעֲזֹר בְּצַבִּיעַת לִבְנֵי הַ-10

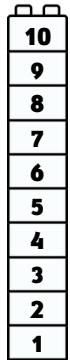
$$45 - 14 = \underline{\hspace{2cm}}$$



$$66 - 35 = \underline{\hspace{2cm}}$$

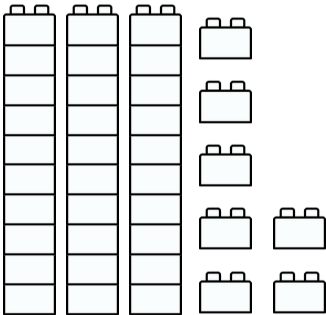


כָּל יַחִידַת לִבְנֵים כְּזֹאת שֶׁהִיא ל-10 כִּי הִיא מְדַבֶּקֶת מ-10 אֲבָנֵי לֵגו קְטַנוֹת


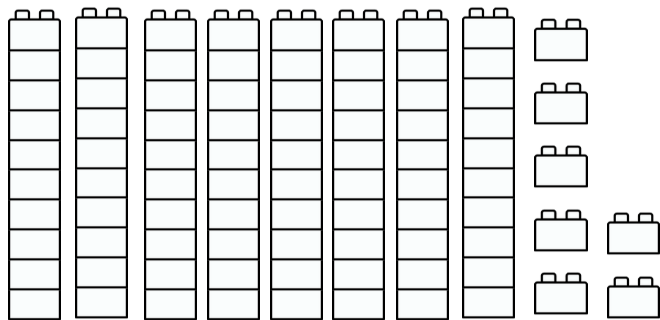


= 10

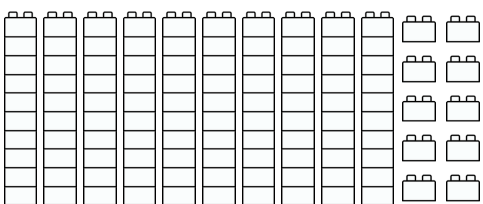
$$37 - 7 = \underline{\hspace{2cm}}$$



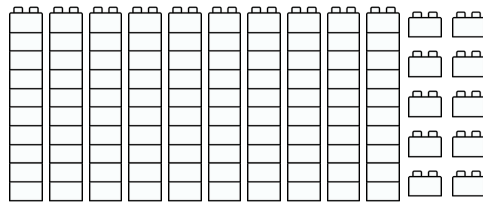
$$87 - 62 = \underline{\hspace{2cm}}$$



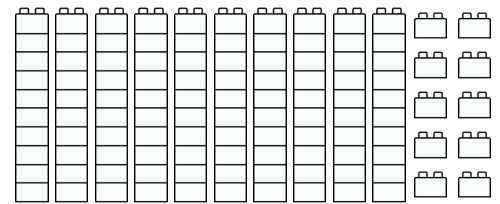
$$85 - 34 = \underline{\hspace{2cm}}$$



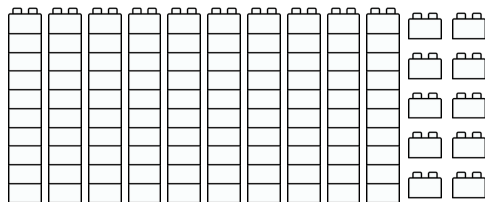
$$75 - 45 = \underline{\hspace{2cm}}$$



$$97 - 27 = \underline{\hspace{2cm}}$$




$$77 - 33 = \underline{\hspace{2cm}}$$




אֵיךְ הַרְגַּשְׁתִּי בְּמִשְׁימָה? הִקִּיפוּ אֶת אִישׁ הַלְגוּ הַמְתַּאִים לְתַחוּשְׁתְּכֶם



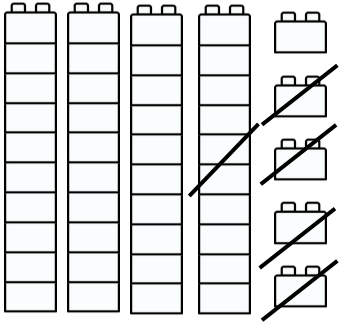


מְתַרְגְּלִים חֶסֶד בְּתַחֵם הַ-100



פְתָרוּ אֶת תְּרַגְלֵי הַחֶסֶד, תּוֹכְלוּ לְהַעֲזֹר בְּצַבִּיעַת לְבַנֵּי הַ-10

$$45 - 14 = \underline{\hspace{2cm}}$$

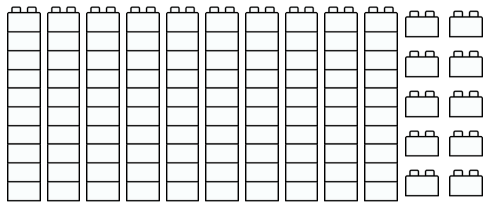


= 10

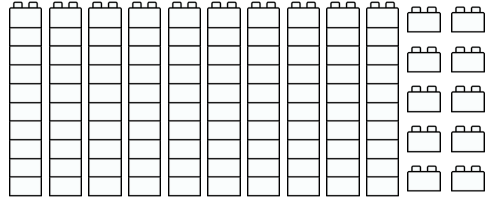
כָּל יַחֲדַת לְבָנִים כְּזֹאת שְׂוֵה ל-10 כִּי הִיא מְדַבֶּכֶת מ-10 אֲבָנֵי לֵגו קְטַנּוֹת



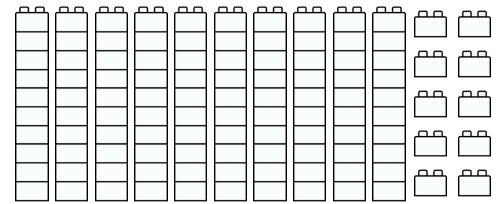
$$85 - 34 = \underline{\hspace{2cm}}$$



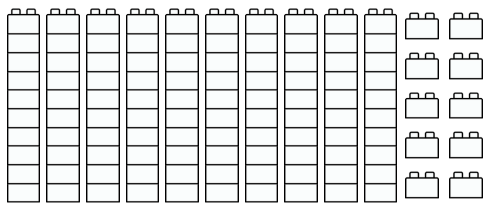
$$75 - 45 = \underline{\hspace{2cm}}$$



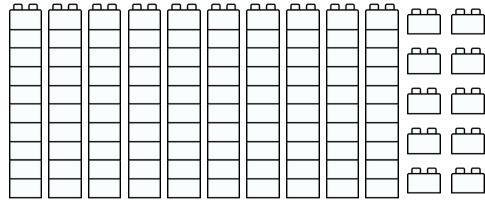
$$97 - 27 = \underline{\hspace{2cm}}$$



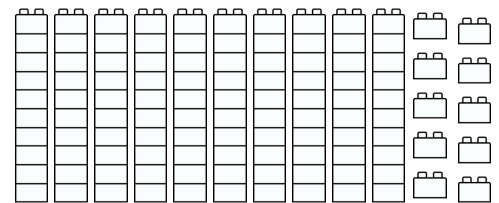
$$97 - 63 = \underline{\hspace{2cm}}$$



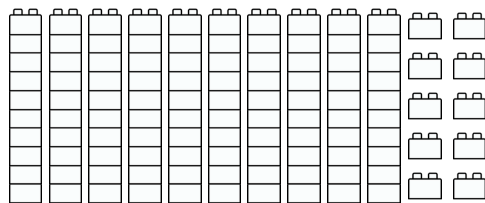
$$54 - 42 = \underline{\hspace{2cm}}$$




$$84 - 74 = \underline{\hspace{2cm}}$$



$$77 - 33 = \underline{\hspace{2cm}}$$



אַתֶּם אֱלוֹפִים!



אֵיךְ הִרְגַּשְׁתִּי בְּמִשְׁיֵמָה? הִקִּיפוּ אֶת אִישׁ הַלֵּגו הַמֵּתְאִים לְתַחוּשְׁתְּכֶם

