




שמחה רבה שמחה רבה  
אוהב הדין פסח בא

# חֻבְרַת תְּרֻגוּל לפסח

שמי: \_\_\_\_\_

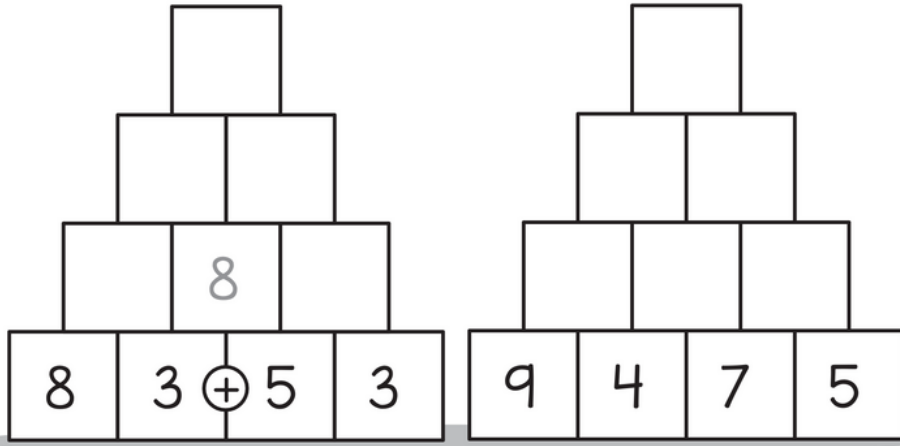
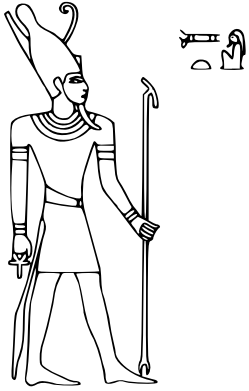




# מְשִׁימָה לַפֶּסַח בַּחֲשׂוֹן

כיתה ב'2

1. פְּתוּרוּ אֶת חֵידוֹת הַפְּרִמִּידוֹת עַל יְדֵי חֲבוּר שְׂתֵי הַלִּבְנִים שְׂמֹתָחַת לְכָל לִבְנָה (כְּמוֹ בַדְגָמָה)



2. מְצְאוּ בְכַמָּה קִפְצָה כָּל חֵיהָ בֵּין מִסְפָּר לְמִסְפָּר וְהַשְׁלִימוּ לְפִי אוֹתוֹ גְּדֹל קְפִיצוֹת אֶת כָּל שְׂאֵר הַמִּסְפָּרִים (מְנִיָּה בַסְדְּרוֹת)

50 60 70 ○ ○ ○ ○ ○

35 45 ○ ○ ○ ○ ○

35 40 ○ ○ ○ ○ ○



3. פְּתוּרוּ אֶת הַתְּרָגִילִים הַבָּאִים

$30+35=$

$31+60=$


$75+20=$


$18+40=$

$75+20=$

$64+2=$

$45+30=$

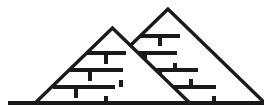
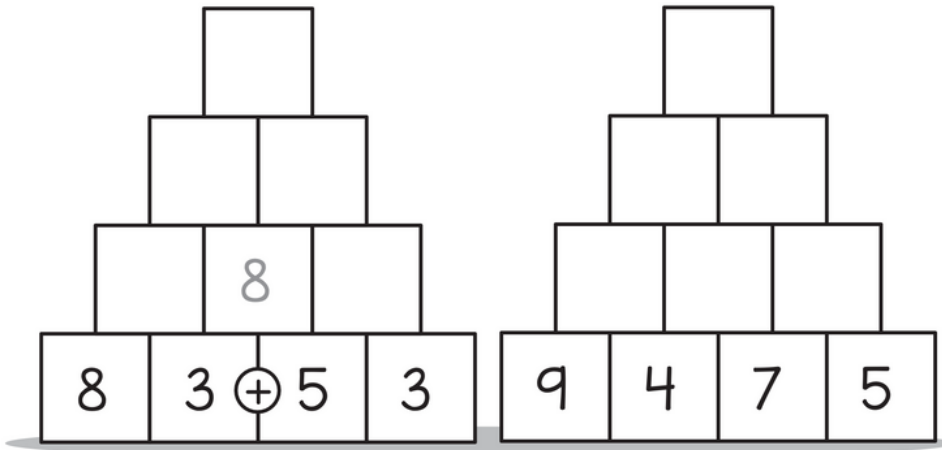
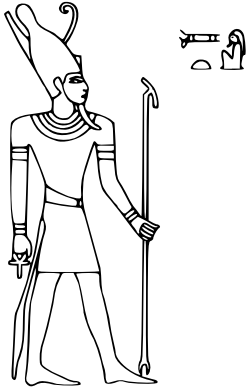




# משימה לפסח בחשבון

כיתה ב'1

1. פתרו את חידת הפירמידות על ידי חבור שתי הלכנים שמפתחת לכל לבנה (כמו בדגמה)



2. מצאו בכמה קפצה כל חיה בין מספר למספר והשלימו לפי אות גודל קפיצות את כל שאר המספרים (מניה בסדרות)

50 60 70 ○ ○ ○ ○ ○

35 45 ○ ○ ○ ○ ○

35 40 ○ ○ ○ ○ ○



$30+35=$

$31+60=$

$75+20=$

$18+40=$


$55-12=$

$75-20=$

$64-2=$

$45-30=$

3. פתרו את התרגילים הבאים



**4.** קבלתם מההורים **79 שקלים** מתנה לחג הפסח בחרו אלו פריטים תרצו לקנות מהחנות. וחשבו כמה כסף ישאר לכם אחרי הקניה, תוכלו לקנות פריט אחד או יותר. בכל סעיף (מפרד בקו) תוכלו לבחר מחדש אילו פריטים תרצו לקנות ללא קשר לקניה הקודמת.

דבי 30	משחק נינטנדו 75	ערכת לגו 55	מכונית על שלט 70	פוקימון פיקאצ'ו 40	קלף פוקימון 3	פופיט 17	רובוט 47	כדורגל 25
אורגן לילדים 70	ערכת קסמים 68	צבעים 10	ספר 37	חד קרן 34	בית בבות 67	בצת הפתעה 15	בועות סבון 7	מסוק על שלט 77



**אני רוצה לקנות:**

---



---

**תרגיל:**



**אני רוצה לקנות:**

---



---

**תרגיל:**



**אני רוצה לקנות:**

---



---

**תרגיל:**

**5.** מצאו את הפירמידה של פרעה (הקיפו את הפירמידה המתאימה להנחיות בבעת הדבור)

מספר הפירמידה שלי הוא זוגי  
מספר הפירמידה שלי קטן מ-50

